


Situations problèmes : MIAM ! Les fraises





La maîtresse a coupé des fraises en deux pour faire une salade de fruits :

Combien y a-t-il de morceaux de fraises ?

Combien avait-elle de fraises entières au départ ?

Tu peux relier tous les morceaux de fraise par 2 ou entourer tous les morceaux de fraise par 2 pour trouver la réponse.



16 morceaux de fraises

8 fraises entières

Préparer des tartelettes aux fraises :

Les fraises sont entières sur chaque tartelettes.....



La maîtresse a préparé 3 tartelettes aux fraises.
Compte les fraises sur chaque tartelette.

Combien la maîtresse a t-elle pris de fraises
en tout pour faire les 3 tartelettes.

Le petit point noir est placé pour aider au comp-
tage.

Tu peux dessiner les fraises de chaque tartelette
pour t'aider à compter.

Réponse : 21

Situation de partage :

compte les fraises, distribue les au garçon
et à la fille, ils doivent en avoir autant. Tu
peux dessiner la situation pour t'aider.

Réponse : 5 chacun

